

Реши примеры

$1+1=$

$5+1=$

$6+2=$

$2+2=$

$2+3=$

$2+4=$

$5+3=$

$7+1=$



$4+1=$

$6+1=$

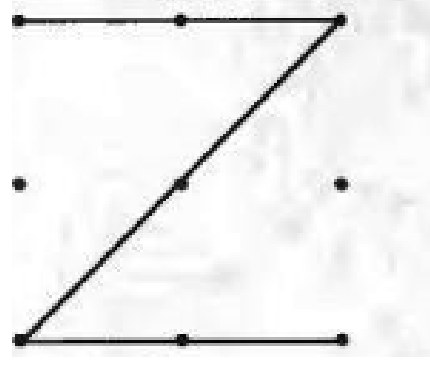

$4+2=$

$8+2=$


Дорисуй в каждом ряду столько предметов, сколько не хватает до количества, указанного цифрами

<b>5</b>	
<b>8</b>	

Нарисуй по точкам

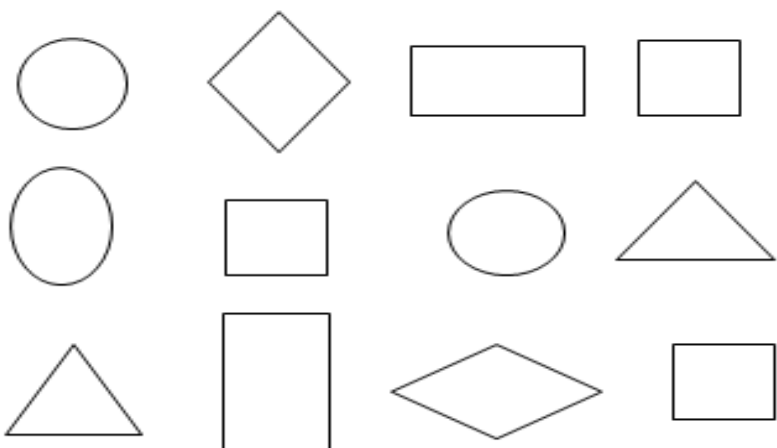
	
--	--

Составь задачу по картинке и запиши решение

	<table border="1" data-bbox="678 1892 1157 1993"><tr><td> </td><td> </td><td> </td><td> </td><td> </td></tr></table>					

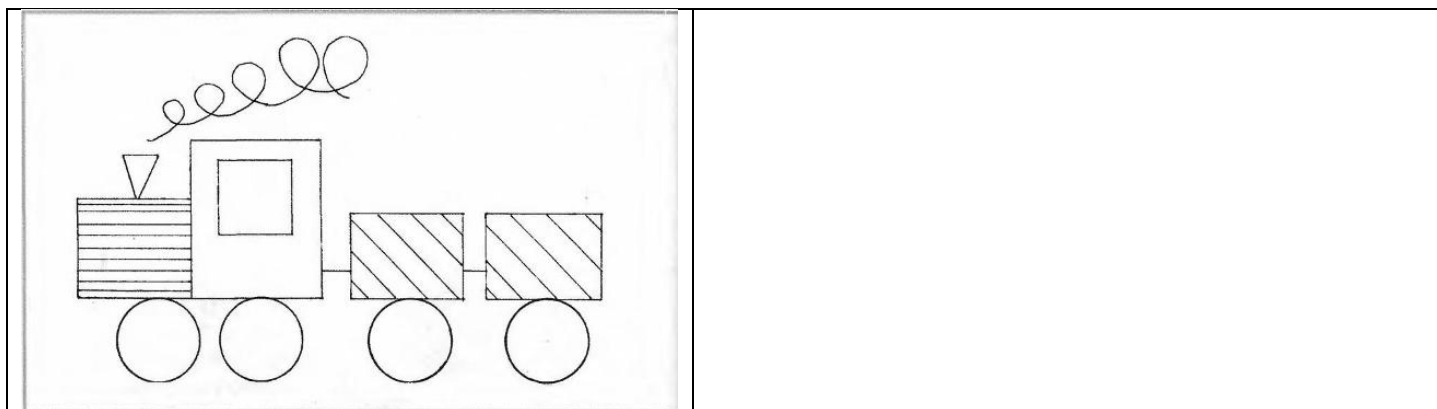
Прочитай предложение. Сколько в нём слов? Напиши в скобочки цифру. Спиши предложение.

Кот любит молоко. ( )



Круги раскрась красным карандашом, а квадраты синим карандашом

Нарисуй такой же паровозик



Прочитай слоги и допиши слова.

кры \_\_\_\_\_ но \_\_\_\_\_ га \_\_\_\_\_

С каких слогов начинается название этих картинок. Соедини картинку с подходящим к ней слогом



